

3.Sınıflar 2.Dönem 1.Genel Değerlendirme Etkinliği/...../.....

Adı :

Sınıfı :

Soyadı :

Numarası:



1) ★ Karşıdan karşıya geçerken alt geçit veya üst geçitleri kullanmalıyız.

▲ Arabaların geçtiği yolda yürümeliyiz.

■ Trafik ışığı veya yaya kaldırımı olan yerlerde yürümeliyiz.

Yukarıda verilen bilgilerden hangisi yanlıştır?

A) ★

B) ▲

C) ■

2) Sağlıklı beslenme ile ilgili aşağıdaki ifadelerden hangisi doğrudur?

A) En çok sevdiğimiz besinlerden yemeliyiz.

B) Her türlü besinden yemeliyiz.

C) Şekerli yiyecek ve içecekleri çok tüketmeliyiz.

3) Aşağıdakilerden hangisi güvenli oyun alanı olamaz?

A) İnşaat alanları

B) Okulumuzun bahçesi

C) Çocuk parkları

4) 😊 Sürekli hazır gıdalar yemek

❤️ Günde üç öğün yemek yemek

🌊 Ellerimizi temiz tutmak

★ Açıkta satılan ürünlerden almak

Yukarıdakilerden hangileri sağlığımızı olumsuz yönde etkiler?

A) 😊 ❤️

B) ❤️ 🌊

C) 😊 ★

5) Okula giderken hangi trafik levhasının bulunduğu yolu tercih etmeliyiz?

A)



B)



C)



6) • Bütçesine uygun ürünler alır.

• Reklamı çok yapılan ürünlerden alır.

• Pahalı ürünlerden alır.

• Ürünlerin son kullanma tarihine bakar.

Bilinçli tüketici yukarıdakilerden kaç tanesini yapmaz?

A) 1

B) 2

C) 3

7) I.Kazanın olduğu yeri söylemeliyiz.

II.Arabanın rengini söylemeliyiz.

III.Kendimizi tanıtmalıyız.

Trafik kazalarında acil telefonu ararken hangi bilgiyi vermeye gerek yoktur?

A) I.

B) II.

C) III.

8) Aşağıdakilerden hangisi, evde düşme kazalarına karşı alınabileceğimiz tedbirlerden değildir?

A) Islak ellerle prizlere dokunmak

B) Kesici aletlerle oynamamak

C) Banyo ve mutfak zeminlerini ıslak bırakmamak

9) tabak - ▲ - tarak

Yukarıdaki kelimeler sözlük sırasına göre dizilmiştir?

Buna göre ▲ yerine hangi sözcük yazılabilir?

- A) tatlı B) tank C) tava

10) 1 2
endişeliydi üzdüğünü
3 4 5
düşündüğü onu için

Yukarıdaki kelimeler nasıl sıralanırsa anlamlı ve kurallı bir cümle oluşur?

- A) 1 – 4 – 2 – 3 - 5
B) 4 – 1 – 2 – 3 - 5
C) 4 – 2 – 3 – 5 - 1

11) Halim amca, düşe kalka kaldırımda yürümeye çalışıyordu.

Yukarıdaki cümlede hangi seçenekteki sorunun yanıtı yoktur?

- A) Nasıl? B) Ne zaman? C) Kim?

12) I.Fare, kediden yiyecek istedi.
II.Gemi, sahile yanaştı.
III.Ağaç, bulutlardan yağmuru istiyordu.
IV.Yaz mevsimi çok kurak geçti.
Yukarıdaki cümlelerin gerçek ve hayal ürünü olarak gruplandırılması nasıl olmalıdır?

Gerçek Hayal

- A) 2 ve 31 ve 4
B) 1 ve 23 ve 4
C) 2 ve 41 ve 3

13) ikaz - uyarı

Yukarıdaki sözcük çiftleri arasındaki ilişki aşağıdaki sözcük çiftlerinin hangisinde vardır?

- A) aşağı - yukarı
B) vazife - görev
C) yoksul - zengin

14) Yaz tatilinde dil kursuna gittim.

Yukarıdaki cümlede altı çizili sözcük hangi seçenekteki cümlede aynı anlamda kullanılmamıştır?

- A) Sıcak çay içtim dilim yandı.
B) Kardeşim üç dil biliyor.
C) Dünyada çok fazla konuşulan dil vardır.

15) Arda()nın kardeşi kitap okuma()
yı çok sever() Annesi de ona sürekli
kitap alır()

Yukarıdaki cümlede ayraç ile gösterilen yerlere hangi noktalama işaretleri gelmelidir?

- A) (,) (-) (.) (!)
B) (`) (-) (.) (.)
C) (`) (-) (,) (.)

16) • Hakanla sinemaya gideceğiz.
• İstanbul'daki yarışmalar iptal edilmiş.
• 13 mart 2020'de dayım Almanya'dan gelecek.
• Çirkin Ördek adlı kitabı okudum.

Yukarıdaki cümlelerin kaç tanesinde yazım yanlışı yapılmıştır?

- A) 1 B) 2 C) 3

17) Yandaki çarpma işleminde ilk yapılan hata kaçınıcı sıradadır?

$$\begin{array}{r} 36 \\ \times 27 \\ \hline 252 \rightarrow 1.\text{adım} \\ + 62 \rightarrow 2.\text{adım} \\ \hline 872 \rightarrow 3.\text{adım} \end{array}$$

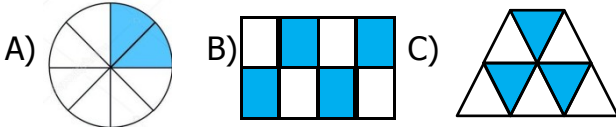
- A) 1.adım
B) 2.adım
C) 3.adım

18) $\begin{array}{r} 96 \overline{) 6} \\ \underline{A} \end{array}$ $\begin{array}{r} 71 \overline{) 7} \\ \underline{B} \end{array}$

Yukarıda verilen bölme işleminde A- B kaçtır?

- A) 6 B) 7 C) 8

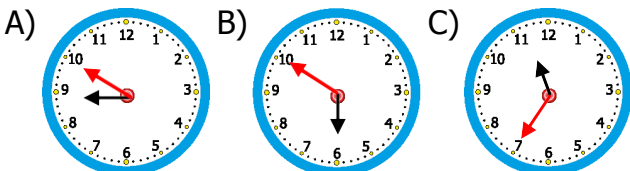
19) $\frac{3}{8}$ kesrini gösteren şekil aşağıdakilerden hangisidir?



20) 627 sayısının onlar basamağındaki rakamı 5 artırıp birler basamağını 3 azaltırsak elde edilen sayının onlar ve birler basamağındaki rakamların basamak değerleri toplamı kaçtır?

- A) 64 B) 74 C) 84

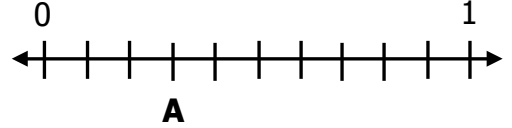
21) Yanda verilen dijital saatteki gösterimin analog saatteki şekli aşağıdakilerden hangisidir?



22) Furkan 284 sayfalık 3 kitap almıştır. Toplam 638 sayfasını okuduğuna göre geriye kaç sayfa kalmıştır?

- A) 214 B) 221 C) 204

23)



Yukarıdaki sayı doğrusunda A harfi ile gösterilen kesir hangisidir?

- A) $\frac{2}{10}$ B) $\frac{3}{10}$ C) $\frac{4}{10}$

24) Serkan, 97 cevizi kendisi ile birlikte 4 arkadaşına eşit olarak paylaşıyor. Kalanları da kendisi aldığına göre Serkan'ın kaç cevizi olur?

- A) 19 B) 20 C) 21

25) ★ 3 yıldaki hafta sayısı 156'dır.

▲ 8 hafta 58 gündür.

■ 84 gün 12 haftadır.

Yukarıdaki ifadelerden hangileri doğrudur?

- A) ★ ▲ B) ★ ■ C) ▲ ■

26) Sinan, 6 düzine kalemin $\frac{1}{4}$ 'ini kullandı. Sinan kaç kalem kullanmış oldu?

- A) 18 B) 17 C) 16

27) Aşağıdakilerden hangisi, işitme kaybına yol açabilir?

- A) Televizyon izlemek
- B) Yüksek şiddetli seslere maruz kalmak
- C) Kulaklıkla müzik dinlemek

28) I. Işık varlıkların üzerine düşerek onları aydınlatır.
II. Karanlıkta da cisimleri net görebiliriz
Yukarıdaki ifadeler için hangisi söylenebilir?

- A) Yalnız I. doğrudur.
- B) Yalnız II. doğrudur.
- C) Her ikisi de doğrudur.

29) maddelerin yanına çakmak ve kibritle yaklaşmamalıyız.

Kuvvetin etkileri ile ilgili doğru eşleştirme hangisidir?

- A) Kırık ve çatlak
- B) Kesici ve delici
- C) Yanıcı ve patlayıcı

30) ★ Büyüme ve gelişme
▲ Hareket etme
■ Solunum yapma

Yukarıda verilenlerden hangileri canlıların ortak özelliklerindendir?

- A) Yalnız ★ B) ★ ▲ C) ★ ▲ ■

31) .Varlıklar titreşerek ses oluşturur.
II. Ses dalgalar halinde yayılır.
III. Ses kaynağına yaklaştıkça sesin şiddeti azalır
Yukarıdaki bilgilerden hangileri doğrudur?

- A) Yalnız I B) I. ve II. C) I. II. ve III.

32) Aşağıdaki ifadelerden hangisi yanlıştır?

- A) Katı maddelerin belirli bir şekilleri vardır.
- B) Sıvılar konuldukları kabın şeklini alır.
- C) Gazlar sıkıştırılmazlar.

33) Aşağıdakilerden hangisinde itme ve çekme kuvveti bir arada kullanılmaz?

- A) Şemsiyeyi açıp kapamak
- B) Kapı ziline basmak
- C) Buzdolabının kapağını açıp kapamak

34) ☐ Yağmur sesi
☐ Kuş sesi
☐ Gitar sesi

Doğal seslere "D", yapay seslere "Y" yazarak nasıl bir sonuç oluşur?

- | | | |
|------|------|------|
| A) D | B) D | C) D |
| D | D | Y |
| Y | D | Y |

35) Cansız varlıklar için aşağıdakilerden hangisi söylenemez?

- A) Büyüyüp gelişemezler
- B) Kendi başlarına hareket edebilirler
- C) Soluk alıp veremezler

3.Sınıflar 2.Dönem 1.Genel Değerlendirme Etkinliği

...../...../.....

Adı :

Sınıfı :

Soyadı :

Cevap Anahtarı

Numarası:



1) ★ Karşıdan karşıya geçerken alt geçit veya üst geçitleri kullanmalıyız.

▲ Arabaların geçtiği yolda yürümeliyiz.

■ Trafik ışığı veya yaya kaldırımı olan yerlerde yürümeliyiz.

Yukarıda verilen bilgilerden hangisi yanlıştır?

B) ★

(B) ▲

C) ■

2) Sağlıklı beslenme ile ilgili aşağıdaki ifadelerden hangisi doğrudur?

A) En çok sevdiğimiz besinlerden yemeliyiz.

(B) Her türlü besinden yemeliyiz.

C) Şekerli yiyecek ve içecekleri çok tüketmeliyiz.

3) Aşağıdakilerden hangisi güvenli oyun alanı olamaz?

(A) İnşaat alanları

B) Okulumuzun bahçesi

C) Çocuk parkları

4) 😊 Sürekli hazır gıdalar yemek

❤️ Günde üç öğün yemek yemek

🌊 Ellerimizi temiz tutmak

★ Açıkta satılan ürünlerden almak

Yukarıdakilerden hangileri sağlığımızı olumsuz yönde etkiler?

B) 😊 ❤️

B) ❤️ 🌊

(C) 😊 ★

5) Okula giderken hangi trafik levhasının bulunduğu yolu tercih etmeliyiz?

(B)



B)



C)



6) • Bütçesine uygun ürünler alır.

• Reklamı çok yapılan ürünlerden alır.

• Pahalı ürünlerden alır.

• Ürünlerin son kullanma tarihine bakar.

Bilinçli tüketici yukarıdakilerden kaç tanesini yapmaz?

B) 1

(B) 2

C) 3

7) .Kazanın olduğu yeri söylemeliyiz.

II.Arabanın rengini söylemeliyiz.

III.Kendimizi tanıtmalıyız.

Trafik kazalarında acil telefonu ararken hangi bilgiyi vermeye gerek yoktur?

B) I.

(B) II.

C) III.

8) Aşağıdakilerden hangisi, evde düşme kazalarına karşı alınabileceğimiz tedbirlerden değildir?

A) Islak ellerle prizlere dokunmak

B) Kesici aletlerle oynamamak

(C) Banyo ve mutfak zeminlerini ıslak bırakmamak

9) tabak - ▲ - tarak

Yukarıdaki kelimeler sözlük sırasına göre dizilmiştir?
Buna göre ▲ yerine hangi sözcük yazılabilir?

A) tatlı (B) tank C) tava

10) 1 2
endişeliydi üzdüğünü
3 4 5
düşündüğü onu için

Yukarıdaki kelimeler nasıl sıralanırsa anlamlı ve kurallı bir cümle oluşur?

A) 1 – 4 – 2 – 3 – 5
B) 4 – 1 – 2 – 3 – 5
(C) 4 – 2 – 3 – 5 – 1

11) Halim amca, düşe kalka kaldırımda yürümeye çalışıyordu.

Yukarıdaki cümlede hangi seçenekteki sorunun yanıtı yoktur?

A) Nasıl? (B) Ne zaman? C) Kim?

12) I.Fare, kediden yiyecek istedi.
II.Gemi, sahile yanaştı.
III.Ağaç, bulutlardan yağmuru istiyordu.
IV.Yaz mevsimi çok kurak geçti.
Yukarıdaki cümlelerin gerçek ve hayal ürünü olarak gruplandırılması nasıl olmalıdır?

Gerçek Hayal

A) 2 ve 31 ve 4
B) 1 ve 23 ve 4

(C) 2 ve 4 1 ve 3

13) ikaz - uyarı

Yukarıdaki sözcük çiftleri arasındaki ilişki aşağıdaki sözcük çiftlerinin hangisinde vardır?

A) aşağı - yukarı
(B) vazife - görev
C) yoksul - zengin

14) Yaz tatilinde dil kursuna gittim.

Yukarıdaki cümlede altı çizili sözcük hangi seçenekteki cümlede aynı anlamda kullanılmamıştır?

(A) Sıcak çay içtim dilim yandı.
B) Kardeşim üç dil biliyor.
C) Dünyada çok fazla konuşulan dil vardır.

15) Arda()nın kardeşi kitap okuma()
yı çok sever() Annesi de ona sürekli
kitap alır()

Yukarıdaki cümlede ayraç ile gösterilen yerlere hangi noktalama işaretleri gelmelidir?

A) (,) (-) (.) (!)
(B) (`) (-) (.) (.)
C) (`) (-) (,) (.)

16) • Hakanla sinemaya gideceğiz.
• İstanbul'daki yarışmalar iptal edilmiş.
• 13 mart 2020'de dayım Almanya'dan gelecek.
• Çirkin Ördek adlı kitabı okudum.

Yukarıdaki cümlelerin kaç tanesinde yazım yanlışı yapılmıştır?

B) 1 (B) 2 C) 3

17) Yandaki çarpma işleminde ilk yapılan hata kaçınıcı sıradadır?

$$\begin{array}{r} 36 \\ \times 27 \\ \hline 252 \rightarrow 1.\text{adım} \\ + 62 \rightarrow 2.\text{adım} \\ \hline 872 \rightarrow 3.\text{adım} \end{array}$$

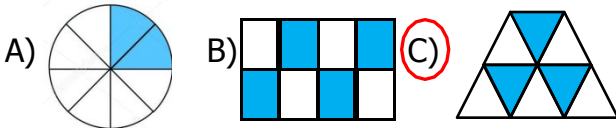
- A) 1.adım
☒ B) 2.adım
 C) 3.adım

18)
$$\begin{array}{r} 96 \overline{) 6} \\ \underline{A} \\ \end{array} \quad \begin{array}{r} 71 \overline{) 7} \\ \underline{B} \\ \end{array}$$

Yukarıda verilen bölme işleminde A- B kaçtır?

- ☒ A) 6 B) 7 C) 8

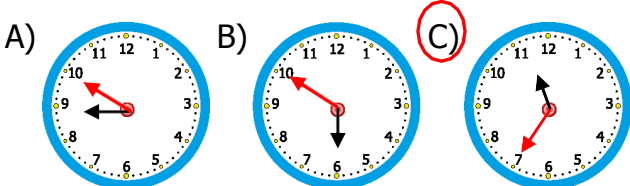
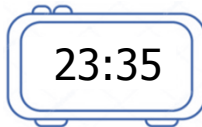
19) $\frac{3}{8}$ kesrini gösteren şekil aşağıdakilerden hangisidir?



20) 627 sayısının onlar basamağındaki rakamı 5 artırıp birler basamağını 3 azaltırsak elde edilen sayının onlar ve birler basamağındaki rakamların basamak değerleri toplamı kaçtır?

- A) 64 ☒ B) 74 C) 84

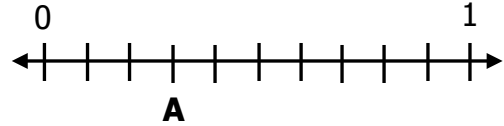
21) Yanda verilen dijital saatteki gösterimin analog saatteki şekli aşağıdakilerden hangisidir?



22) Furkan 284 sayfalık 3 kitap almıştır. Toplam 638 sayfasını okuduğuna göre geriye kaç sayfa kalmıştır?

- ☒ A) 214 B) 221 C) 204

23)



Yukarıdaki sayı doğrusunda A harfi ile gösterilen kesir hangisidir?

- A) $\frac{2}{10}$ ☒ B) $\frac{3}{10}$ C) $\frac{4}{10}$

24) Serkan, 97 cevizi kendisi ile birlikte 4 arkadaşına eşit olarak paylaşıyor. Kalanları da kendisi aldığına göre Serkan'ın kaç cevizi olur?

- A) 19 B) 20 ☒ C) 21

25) ★ 3 yıldaki hafta sayısı 156'dır.

▲ 8 hafta 58 gündür.

■ 84 gün 12 haftadır.

Yukarıdaki ifadelerden hangileri doğrudur?

- A) ★ ▲ ☒ B) ★ ■ C) ▲ ■

26) Sinan, 6 düzine kalemin $\frac{1}{4}$ 'ini kullandı. Sinan kaç kalem kullanmış oldu?

- ☒ A) 18 B) 17 C) 16

27) Aşağıdakilerden hangisi, işitme kaybına yol açabilir?

- A) Televizyon izlemek
- ☒ B) Yüksek şiddetli seslere maruz kalmak
- C) Kulaklıkla müzik dinlemek

28) I. Işık varlıkların üzerine düşerek onları aydınlatır.
II. Karanlıkta da cisimleri net görebiliriz
Yukarıdaki ifadeler için hangisi söylenebilir?

- ☒ A) Yalnız I. doğrudur.
- B) Yalnız II. doğrudur.
- C) Her ikisi de doğrudur.

29) maddelerin yanına çıkmak ve kibritle yaklaşmamalıyız.

Kuvvetin etkileri ile ilgili doğru eşleştirme hangisidir?

- A) Kırık ve çatlak
- B) Kesici ve delici
- ☒ C) Yanıcı ve patlayıcı

30) ★ Büyüme ve gelişme
▲ Hareket etme
■ Solunum yapma

Yukarıda verilenlerden hangileri canlıların ortak özelliklerindendir?

- A) Yalnız ★
- B) ★ ▲
- ☒ C) ★ ▲ ■

31) .Varlıklar titreşerek ses oluşturur.
II. Ses dalgalar halinde yayılır.
III. Ses kaynağına yaklaştıkça sesin şiddeti azalır
Yukarıdaki bilgilerden hangileri doğrudur?

- A) Yalnız I
- ☒ B) I. ve II.
- C) I. II. ve III.

32) Aşağıdaki ifadelerden hangisi doğrudur?

- A) Katı maddelerin belirli bir şekilleri vardır.
- B) Sıvılar konuldukları kabın şeklini alır.
- ☒ C) Gazlar sıkıştırılmazlar.

33) Aşağıdakilerden hangisinde itme ve çekme kuvveti bir arada kullanılmaz?

- A) Şemsiyeyi açıp kapamak
- ☒ B) Kapı ziline basmak
- C) Buzdolabının kapağını açıp kapamak

34) ☐ Yağmur sesi
☐ Kuş sesi
☐ Gitar sesi

Doğal seslere "D", yapay seslere "Y" yazarak nasıl bir sonuç oluşur?

- | | | | |
|-------------------------------------|---|------|------|
| <input checked="" type="radio"/> A) | D | B) D | C) D |
| | D | D | Y |
| | Y | D | Y |

35) Cansız varlıklar için aşağıdakilerden hangisi söylenemez?

- A) Büyüyüp gelişemezler
- ☒ B) Kendi başlarına hareket edebilirler
- C) Soluk alıp veremezler